

Klasa II LO - zakres rozszerzony po szkole podstawowej

1. Wyjaśnij znaczenie terminów : *państwo, granica państwa, enklawa, eksklawa, terytorium zależne*. Podaj przykłady enklaw, eksklaw i terytoriów zależnych na świecie.
2. Wymień przyczyny rozpadu systemu kolonialnego. Wyjaśnij, w jaki sposób kolonializm i dekolonizacja wpłynęły na współczesny podział polityczny świata.
3. Opisz przemiany społeczno-ustrojowe w Europie po 1989 roku oraz ich wpływ na podział polityczny.
4. Wymień rodzaje konfliktów na świecie. Podaj ich przyczyny i skutki, a następnie wskaż ważniejsze obszary konfliktów zbrojnych na świecie.
5. Na świecie istnieją państwa o różnym poziomie rozwoju społeczno-gospodarczego. Wymień podstawowe wskaźniki poziomu rozwoju gospodarczego i społecznego, które służą opisaniu poziomu rozwoju państw na świecie. Jakie czynniki wpływają na rozwój państw?
6. Podaj przyczyny zmian liczby ludności świata i wyjaśnij rolę *przyrostu naturalnego* w tym procesie w regionach wysoko i słabo rozwiniętych.
7. Na wykresie przedstawiono fazy rozwoju demograficznego. Na podstawie powyższego wykresu i własnej wiedzy określ prawdziwość zdań (P – zdanie prawdziwe, F – zdanie fałszywe)



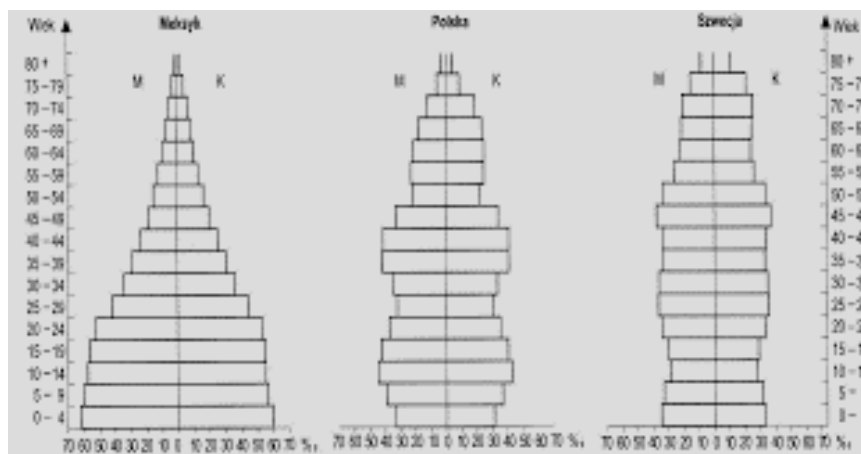
- a) Eksplozja demograficzna występuje w II i III fazie modelu -

b) W I fazie odnotowuje się bardzo wysoki wskaźnik urodzeń i zmniejszający się wskaźnik zgonów -

c) Procesy demograficzne występujące w V fazie są charakterystyczne dla krajów Afryki dotkniętych klęską głodu -

d) Spadek liczby zgonów w II fazie rozwoju demograficznego jest efektem poprawy warunków życia, higieny oraz lepszego wyżywienia -

8. Na podstawie poniżej podanych piramid wieku i płci scharakteryzuj typy demograficzne społeczeństw Meksyku, Polski i Szwecji.



9. Podaj nazwy 3 obszarów o bardzo dużej gęstości zaludnienia na świecie i wymień czynnik, który o tym zdecydował oraz 3 obszary o bardzo małej gęstości zaludnienia na świecie i podaj, jaka bariera osadnicza o tym zdecydowała.

10. Wyjaśnij znaczenie terminów: *ekumena*, *subekumena* i *anekumena* oraz podaj przykłady obszarów na świecie odpowiadających wyżej wymienionym terminom.

11. Podaj przyczyny i skutki migracji we współczesnym świecie. Wymień przykłady korzyści i zagrożeń, które są wynikiem przemieszczania się ludności na świecie, zarówno dla państw emigracyjnych jak i imigracyjnych.

12. Przedstaw zróżnicowanie ludności świata pod względem narodowościowym, etnicznym, językowym, religijnym, kulturowym oraz poziomu wykształcenia. Podaj przykłady różnic na świecie

13. Wymień rodzaje jednostek osadniczych. Jakie czynniki decydują o rozwoju sieci osadniczej i jej rodzajach w wybranych regionach świata?

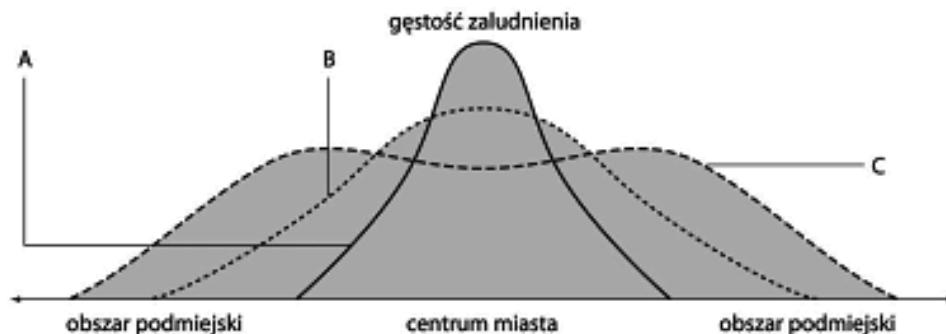
14. Na poniższym schemacie przedstawiono fazy urbanizacji. Rozpoznaj je i podaj nazwy każdej z faz:

A -

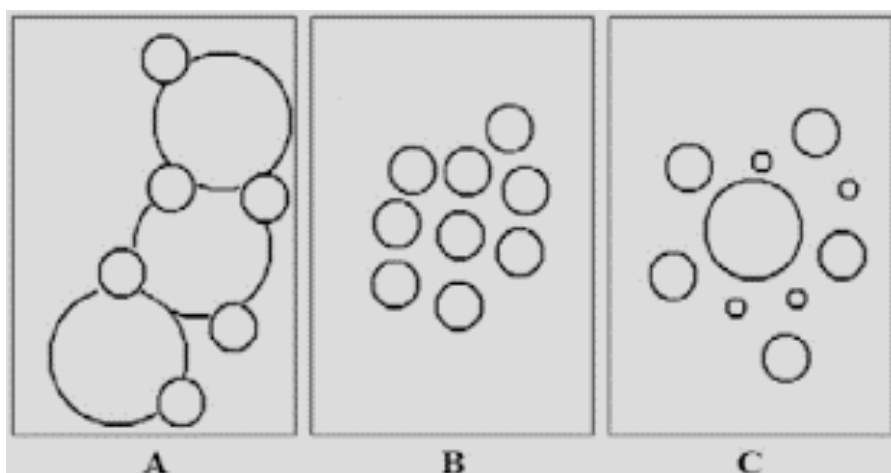
B -

C -

a następnie opisz jedną, wybraną spośród nich.



15. Na poniższych schematach rozpoznaj i podpisz, jaki to typ zespołu miejskiego oraz podaj przykłady, a następnie wyjaśnij różnice między konurbacją a aglomeracją monocentryczną.



A - np.

B - np.

C - np.

16. Wymień funkcje poszczególnych sektorów gospodarki oraz omów zmiany znaczenia sektorów gospodarki wraz z rozwojem cywilizacyjnym.

17. Na czym polega globalizacja? Podaj po dwa przykłady przejawów globalizacji na płaszczyźnie gospodarczej, społecznej i politycznej.

18. Na przykładzie dowolnie wybranego regionu świata lub kraju przedstaw wpływ czynników przyrodniczych na warunki rozwoju rolnictwa.
19. Podaj nazwy typów rolnictwa na świecie. Wymień charakterystyczne cechy każdego z nich.
20. Przedstaw podział i zastosowanie oraz obszary upraw najważniejszych roślin uprawnych na świecie.
21. Rozpoznaj rośliny na podstawie ich opisu i wymagań wegetacyjnych.
- a) Uprawiana na plantacjach, wieloletnia trawa o wysokości dochodzącej do 6 m, zawierająca duże ilości sacharozy. Wymaga żyznych gleb, wysokiej temperatury i dużej wilgotności.
- b) Zboże uprawiane głównie w strefie gorącej i wilgotnej. Dzięki krótkiemu okresowi wegetacji , daje nawet trzykrotne zbiory w ciągu roku
- c) Uważana jest za jedną z najużyteczniejszych roślin świata, gdyż wiele jej części wykorzystuje się do różnych celów, np. z surowego miąższu uzyskuje się cenny olej. Rośnie w strefie okołorównikowej.
- d) Z liści i pędów tej rośliny sporządza się smaczny napój. Ze względu na sposób preparowania liści w handlu pojawiają się jej różne odmiany (czarna, zielona).....
- e) Uprawiana głównie w klimacie umiarkowanym i podzwrotnikowym, na żyznych glebach. Produkowana głównie w celach żywieniowych, ale także jako pasza lub do produkcji spirytusu
22. Wymień typy chowu zwierząt gospodarskich i podaj, jakie czynniki wpływają na różnicowanie gatunkowe chowu zwierząt na świecie.
23. Wyjaśnij funkcje lasów oraz przedstaw sposoby gospodarowania zasobami leśnymi na świecie.
24. Wyjaśnij różnicę między rybactwem, rybołówstwem a akwakulturą i marikulturą.
25. Omów udział oceanów w światowych połowach i rozmieszczenie najważniejszych łowisk.
26. Jakie czynniki przyrodnicze i pozapryrodnicze wpływają na lokalizację zakładu przemysłowego? Wymień rodzaje lokalizacji przemysłu, podaj przykłady każdej z nich.
27. Omów cechy i rozmieszczenie przemysłu zaawansowanych technologii. Jakie czynniki warunkują powstanie technopolii?
28. Przedstaw, na czym polegają zmiany w przemyśle na świecie. W swojej odpowiedzi uwzględnij terminy: *industrializacja, dezindustrializacja, reindustrializacja*.
29. Wymień źródła energii w podziale na odnawialne i nieodnawialne i określ udział poszczególnych źródeł energii w bilansie energetycznym świata.

30. Wymień typy elektrowni i podaj przyrodniczy czynnik lokalizacji każdej z nich.
31. Omów zalety i wady elektrowni opartych na odnawialnych źródłach energii: elektrowni jądrowych, elektrowni wodnych, elektrowni wiatrowych i słonecznych oraz geotermalnych.
32. Wymień rodzaje transportu oraz ich wady i zalety.
33. Przedstaw znaczenie różnych rodzajów transportu we współczesnym świecie.
33. Wyjaśnij rolę telekomunikacji w kształtowaniu społeczeństwa informacyjnego.
34. Przedstaw znaczenie kapitału ludzkiego w rozwoju gospodarki opartej na wiedzy i wymień jej cechy.
35. Omów wpływ poziomu edukacji oraz usług bankowych na rozwój społeczno-gospodarczy państw..
36. Przedstaw znaczenie wymiany handlowej w rozwoju społeczno-gospodarczym świata.
37. Jakie walory turystyczne wpływają na atrakcyjność turystyczną danego miejsca? Podaj przykłady z Polski i ze świata.
38. Wymień konflikty, jakie występują współcześnie w relacji człowiek – środowisko. Swoją odpowiedź poprzyj przykładami.
39. Wymień cele i podaj najważniejsze zasady zrównoważonego rozwoju.
40. Wyjaśnij rolę planowania przestrzennego w kształtowaniu i ochronie krajobrazu kulturowego.
41. Na czym polega rewitalizacja krajobrazu? Podaj przykłady proekologicznych działań w rolnictwie, przemyśle oraz usługach.