

# Wiem co trzeba - klasa III (styczeń)

1. Oblicz:

$100 + 200 = \dots\dots\dots$

$430 + 70 = \dots\dots\dots$

$1000 - 700 = \dots\dots\dots$

$300 + 440 = \dots\dots\dots$

$650 - 50 = \dots\dots\dots$

$860 - 200 = \dots\dots\dots$

2. Na kopercie zapisz swoje imię i nazwisko oraz swój adres.

A large rectangular box for writing. Inside the box, there is a smaller rectangular box in the top right corner, and three horizontal lines on the right side for writing.

3. Podkreśl na zielono zdania prawdziwe, a na czerwono zdania z fałszywą informacją.

Obecna pora roku to jesień.

Po zimie następuje jesień.

Niedźwiedzie i borsuki zapadają w sen zimowy.

Naszą ojczyzną jest Polska.

Sarny, lisy i zające są mieszkańcami parków.

Najkrótszym miesiącem roku jest maj.

4. Uzupełnij.

Wynik dodawania to .....

Wynik odejmowania to .....

Wynik mnożenia to .....

Wynik dzielenia to .....

5. Oblicz iloczyny i ilorazy.

$3 * 3 = \dots\dots\dots$

$8 * 3 = \dots\dots\dots$

$27 : 9 = \dots\dots\dots$

$8 * 2 = \dots\dots\dots$

$9 * 2 = \dots\dots\dots$

$18 : 3 = \dots\dots\dots$

$4 * 5 = \dots\dots\dots$

$6 * 5 = \dots\dots\dots$

$16 : 4 = \dots\dots\dots$

$2 * 7 = \dots\dots\dots$

$4 * 4 = \dots\dots\dots$

$24 : 4 = \dots\dots\dots$

6. Nocleg w schronisku w Karkonoszach wynosi 120 zł za dobę.

Ile będzie kosztował nocleg za trzy doby pobytu?

Obliczenie: .....

Odpowiedź: .....

7. Dłuższy bok prostokąta ma 6 cm długości. Drugi bok jest o 3 cm krótszy.

Oblicz obwód tego prostokąta.

Obliczenia: .....

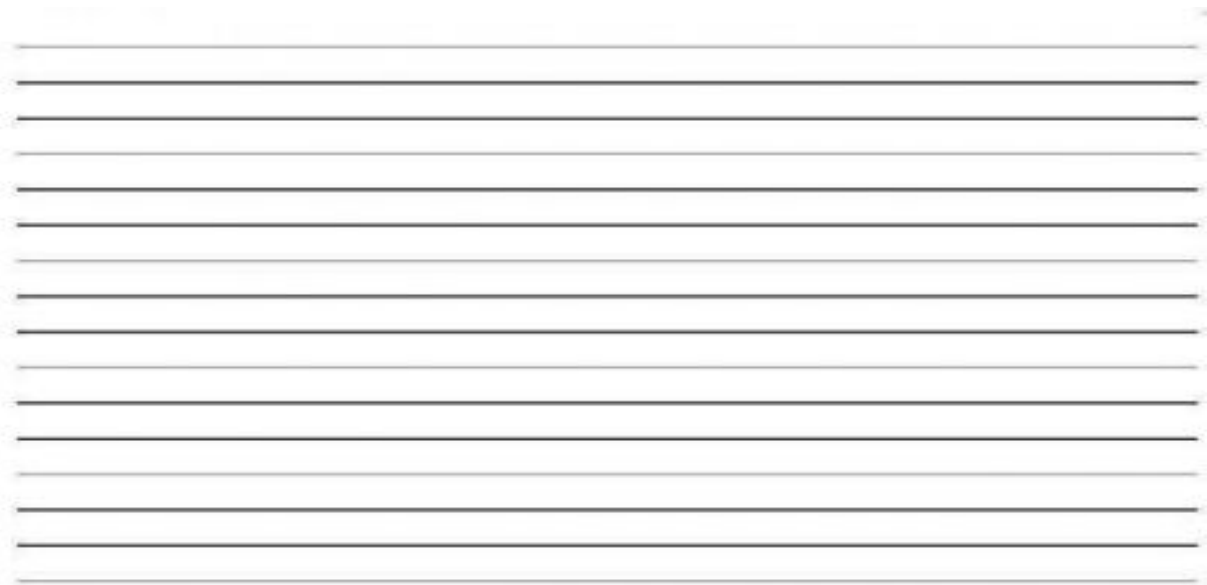
.....

8. Obwód trójkąta, którego wszystkie boki są równe wynosi 15 cm.

Oblicz długość jednego boku.

Obliczenie: .....

9. Napisz życzenia dla babci z okazji Dnia Babci.



10. Ile to milimetrów?

6 cm = ..... mm

10 cm = ..... mm

14 cm = ..... mm

23 cm = ..... mm

48 cm = ..... mm

11. Ola miała 45 zł. Kupiła w Krakowie 5 pamiątkowych figurek.


Za każdą z nich zapłaciła 6 zł. Ile złotych jej zostało?

Tyle Ola wydała: .....


Tyle Oli zostało: .....

Odpowiedź: .....

12. Kasia wybrała się z rodziną do Zakopanego. Wsiadli do pociągu o godzinie 9.30. Do Krakowa jechali 7 godzin, a następnie z Krakowa do Zakopanego 1 godzinę i 40 minut. Zaznacz na zegarach godzinę rozpoczęcia i zakończenia podróży.



**początek podróży**



**koniec podróży**

13. Zapisz literkę P (prawda) przy zdaniach, które są prawdziwe, a F (fałsz) przy zdaniach, które są fałszywe.

Kalendarzowa zima kończy się wtedy, gdy stopnieje śnieg.

Milimetr jest dłuższy niż centymetr.

Ziemia krąży wokół Słońca.

Jesień zaczyna się we wrześniu.

Polska należy do Unii Europejskiej.

Jaskółki zimują w Polsce.

Indie znajdują się w Azji.

100 dag to 1 kg.

Mróz jest wtedy, gdy temperatura spada poniżej zera stopni Celsjusza.

Ósmym miesiącem w roku jest sierpień.

Niedźwiedzie są ssakami.