

# Wiem co trzeba - klasa III (grudzień)

1. Pod każdą liczbą napisz liczbę o 8 mniejszą.


<b>67</b>	<b>42</b>	<b>33</b>	<b>71</b>	<b>46</b>	<b>55</b>

2. Przeczytaj wyrazy, a następnie wpisz je w odpowiednie miejsca w tabeli.

burza, tchórz, przeczytał, ujrzeni, rzeka, korzeń, patrzę, rzodkiewka,

Rzeczowniki	Czasowniki

Ułóż zdania z trzema wybranymi wyrazami.



3. Wykonaj obliczenia.

$34 + 17 = \dots\dots\dots$   
 $23 + 15 = \dots\dots\dots$   
 $50 + 23 = \dots\dots\dots$   
 $77 - 19 = \dots\dots\dots$   
 $85 - 38 = \dots\dots\dots$   
 $62 - 16 = \dots\dots\dots$

a) Otrzymane wyniki uszereguj malejąco.  
 $\dots\dots\dots$

b) Pokoloruj na czerwono te wyniki, które są liczbami parzystymi.

3. Ile to minut?

- godzina - .....

- pół godziny - .....

- 3 godziny - .....

- kwadrans - .....

- 3 kwadransy - .....

4. Uzupełnij wyrazy literami "rz" lub "ż".

...ółtko, d.....ewo, ....ubr, ....óły, t.....ask, ko.....uch, b.....uch,  
spoj.....enie, .....onkile, podłu.....ne, p.....eszkoa, ...uraw, k.....ak,  
g.....ebień, po.....ywienie, ch.....an, w.....osy, .....ądło, .....uk, .....el

Przyjrzyj się uzupełnionym wyrazom i na ich podstawie uzupełnij  
poniższe zdanie.


W języku polskim "rz" piszemy po następujących spółgłoskach:

.....

5. Sprawdź w domu i zapisz, w jakich urządzeniach w twoim domu  
jest termometr.

.....

6. Krzys i Zosia postanowili ozdobić okna swojego domu śnieżynkami wyciętymi z papieru. Krzys wykonał 6 śnieżynek, a jego siostra 3 razy więcej. Ile śnieżynek wykonała Zosia? Ile razem śnieżynek wykonały dzieci?



Obliczenia:

.....

Odp. :

.....

.....

7. Babcia Krysia zaprosiła na podwieczorek dwoje swoich wnucząt. Stół przykryła haftowanym obrusem, którego dłuższy bok miał długość 3 m, a krótszy - 2 m. Jak jest łączna długość wszystkich boków tego obrusa?


Obliczenia: .....

Odpowiedź:


.....

8. Pan Grzegorz, który jest kierownikiem pociągu, pracuje 6 dni w tygodniu od 7.00 do 15.00.

Narysuj na zegarach początek i koniec pracy pana Grzegorza, a następnie odpowiedz na pytania.



**początek pracy**



**koniec pracy**

Ile godzin dziennie pracuje pan Grzegorz?

.....

Ile godzin w tygodniu pracuje pan Grzegorz?

.....

9. Posługując się znanym ci programem komputerowym, przygotuj pracę zatytułowaną "Zima w mojej okolicy".