

4. Rozwiąż zadanie.

Mama z Kasia wybrały się do kawiarni. Mama zamówiła filiżankę herbaty i tort bezowy, a Kasia sok pomarańczowy i 2 rurki z kremem. Wybierz z karty dań odpowiednie ceny i oblicz, ile kosztowało zamówienie?

Karta dań:

herbata - 5 zł

rurka z kremem - 4 zł

kawa - 8 zł

tort bezowy - 6 zł

sok pomarańczowy - 4 zł

szarlotka - 5 zł

.....

Odp.:

Mama zapłaciła za zamówienie banknotami:



i




Ile dostała reszty?


.....

Odp.: Mama dostała złotych reszty.


7. Zaznacz podane godziny na zegarach.




5. 25



13. 10



12.55



17. 40

8. Uzupełnij, wstawiając odpowiednio **rz** lub **ź**.

uj.....ał, p.....ykład,odkiewka,uraw, d.....ewo,ółw,
K.....yś, ko.....eń,uk, b.....oza, t.....ask, g.....yb, ch.....an

Uzupełnij zdanie:

Rz piszemy po następujących spółgłoskach:

.....

9. Uzupełnij zdania.

Najdłuższa rzeka w Polsce to Ma swoje źródło na stokach Baraniej Góry. Przepływa przez obecną stolicę Polski, czyli Wpada do

.....

10. Babcia postanowiła ,że przygotuje jako ozdobę stołu bukiet z wiosennych kwiatów. Stwierdziła, że musi kupić 14 tulipanów i 7 żonkili. Ile kwiatów chce kupić babcia?

.....

Odp.:

11. Oblicz:

$21 + 4 = \dots\dots\dots$

$21 + 6 = \dots\dots\dots$

$23 + 4 = \dots\dots\dots$

$27 - 4 = \dots\dots\dots$

$26 - 4 = \dots\dots\dots$

$27 - 6 = \dots\dots\dots$


12. Pan Tadeusz posadził przed domem 25 tulipanów. W nocy krety wykopały 5 cebulek. Ile cebulek zostało w ziemi?



.....

Odp. :

13. Narysuj w ramce swoje najbardziej niezwykłe marzenie.



Moim marzeniem jest

.....